

PHẦN B. TỰ LUẬN

Bài 1 (1 điểm) Đặt tính rồi tính:

$35 + 2$

$67 - 20$

$5 + 14$

$69 - 9$

.....
.....
.....

Bài 2 (1 điểm) >, =, < ?

$10 + 25 \dots 50$

$68 - 42 \dots 12 + 14$

$69 - 8 \dots 60$

$7 + 51 \dots 58 - 7$

Bài 3 (1 điểm) Tính

$22 + 36 - 23 = \dots$

$85 \text{ cm} - 15 \text{ cm} = \dots$

$53 + 42 - 30 = \dots$

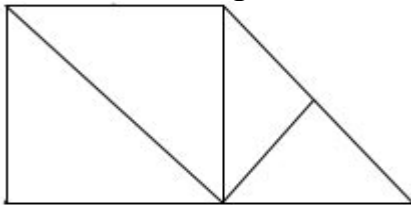
$74 \text{ cm} + 20 \text{ cm} = \dots$

Bài 4: (1 điểm)

a. Hình vẽ bên có:

..... hình vuông

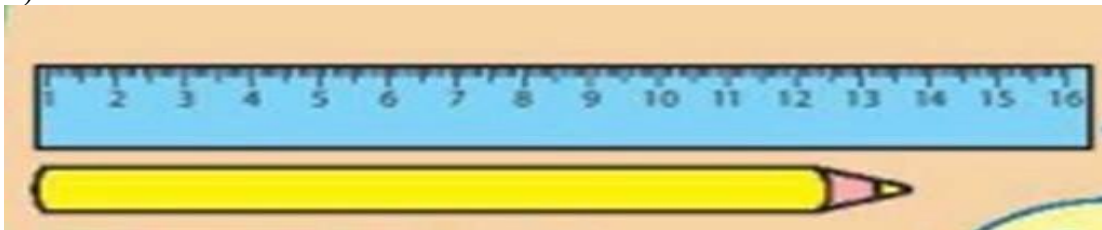
..... hình tam giác



b. Viết “**dài hơn hoặc ngắn hơn**” vào chỗ chấm cho thích hợp.

a) Cái thước bút chì

b) Bút chì cái thước



Câu 5(2 điểm) Hoàn thành sơ đồ tách – gộp và giải bài toán

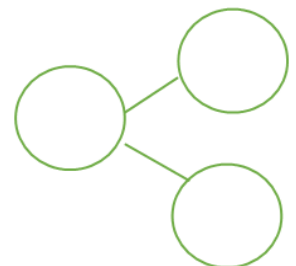
Mẹ có 78 quả táo. Mẹ cho Lan 25 quả táo. Hỏi mẹ còn lại bao nhiêu quả táo?

Phép tính

--	--	--	--	--

Trả lời

.....



Bài 6 (1 điểm) Điền số thích hợp vào chỗ trống:

Số là số liền trước của 80 và liền sau của 82.