

Họ và tên:

Thứ.....ngày.....tháng.....năm 2025

Lớp:

Thời gian: 40 phút

<u>Điểm</u>	<u>Nhận xét của giáo viên</u>

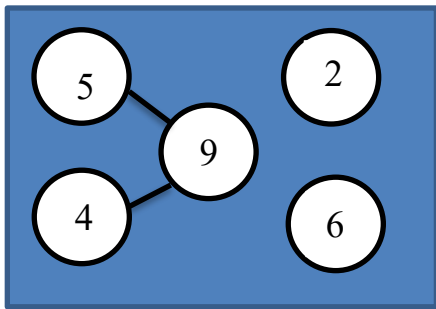
Đúng ghi đ , sai ghi s

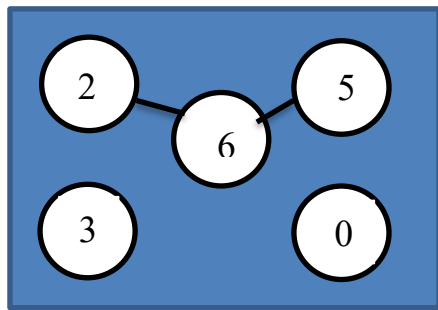
Câu 1: Các số sau: 1, 7, 3, 5 được xếp theo thứ tự từ bé đến lớn.

- a, 1, 3, 5, 7
- b, 3, 5, 1, 7

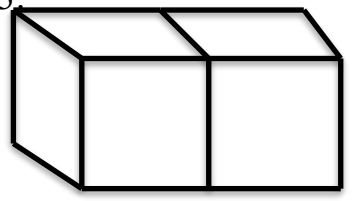
- c, 1, 5, 3, 7
- d, 7, 5, 3, 1

Câu 2: Một bạn lập sơ đồ tách- gộp số như sau:

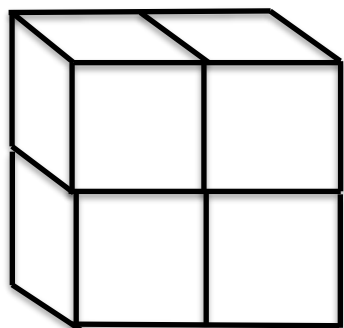




Câu 3:



A



B

a, Hình A có 2 khối lập phương

b, Hình B có 6 khối lập phương

Câu 4: Số



Câu 5: Tính

$1 + 4 = \dots\dots$

$10 - 3 + 2 = \dots\dots\dots$

$3 + 5 = \dots\dots\dots$

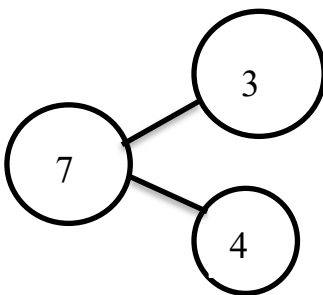
$2 + 5 - 5 = \dots\dots\dots$

Câu 6: >, <, =

$4 \dots\dots 6$

$3 + 3 \dots\dots 6$

Câu 7: Nhìn sơ đồ tách gộp để viết phép tính thích hợp:



.....
.....

Câu 8: Viết số thích hợp vào ô trống


5	+	3	=	
+		-		-
1	-		=	
=		=		=
	+		=	8

Câu 9:

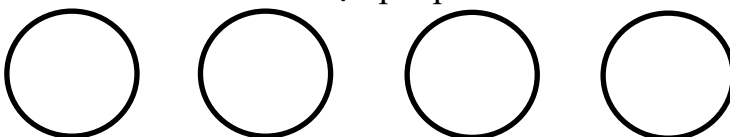
..... hình tam giác

.....hình tròn

..... hình chữ nhật



Câu 10: Tô màu để thể hiện phép tính: $4 - 1 = 3$



Đáp án môn Toán

Câu 1: Các số sau : 1, 7, 3, 5 được xếp theo thứ tự từ bé đến lớn.

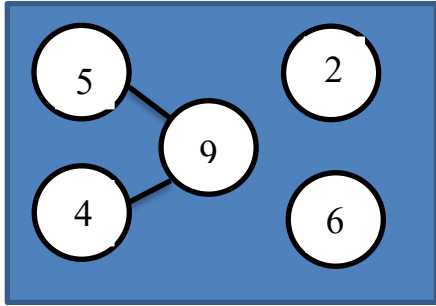
a, 1, 3, 5, 7 đ

c, 1, 5, 3, 7 s

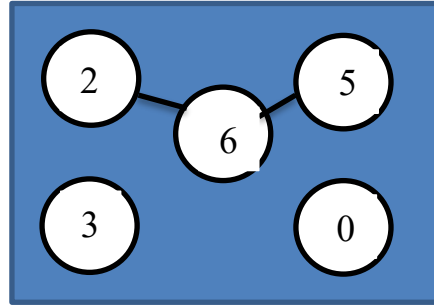
b, 3, 5, 1, 7 s

d, 7, 5, 3, 1 s

Câu 2: Một bạn lập sơ đồ tchs- gộp số như sau :

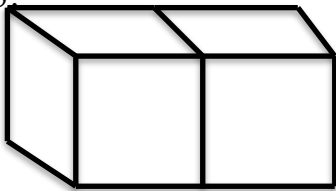


đ

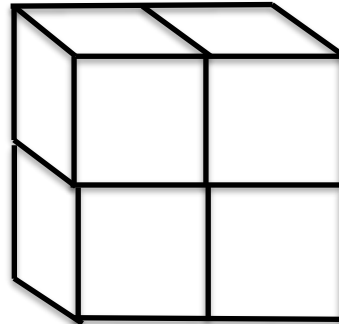


s

Câu 3:



A



B

a, Hình A có 2 khối lập phương đ

b, Hình B có 6 khối lập phương s

Câu 4: Số



Câu 5: Tính

$$1 + 4 = 5$$

$$10 - 3 + 2 = 9$$

$$3 + 5 = 8$$

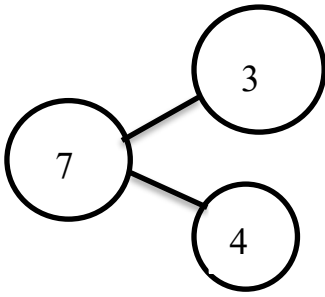
$$2 + 5 - 5 = 2$$

Câu 6: >, <, =

$$4 < 6$$

$$3 + 3 = 6$$

Câu 7: Nhìn sơ đồ tách gộp để viết phép tính thích hợp :



$$7 - 4 = 3$$

$$3 + 4 = 7$$

Câu 8: Viết số thích hợp vào ô trống


5	+	3	=	8
+		-		-
1	-	1	=	0
=		=		=
6	+	2	=	8

Câu 9:

3 hình tam giác

5 hình tròn

1 hình chữ nhật



Câu 10: Tô màu để thể hiện phép tính: $4 - 1 = 3$

