



TRƯỜNG TH CHU VĂN AN

Họ và tên:

Lớp 2:

Thứ ngày tháng năm 2026

KIỂM TRA CUỐI NĂM HỌC 2025 - 2026

MÔN TOÁN

Thời gian: 35 phút

Điểm:	Nhận xét của giáo viên
-------	------------------------

Câu 1 (1 điểm)

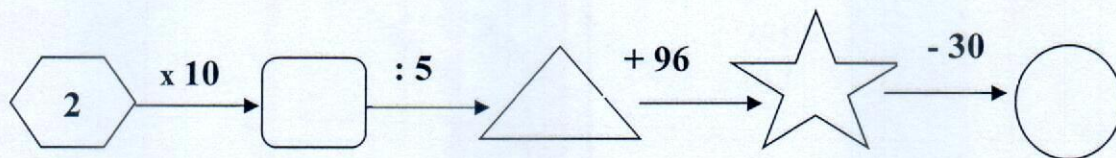
a) Số gồm 9 trăm 7 chục và 0 đơn vị được viết là:

- A. 97
- B. 790
- C. 970
- D. 907

b) Sắp xếp các số sau theo thứ tự tăng dần: 875, 457, 254, 759, 978

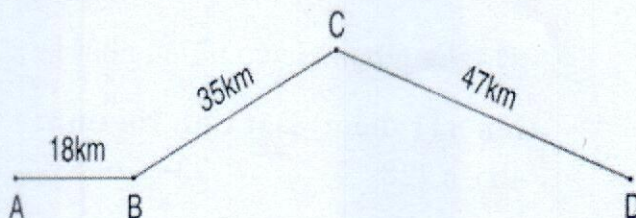
- A. 457, 254, 759, 875, 978
- B. 978, 875, 759, 457, 254
- C. 254, 457, 875, 759, 978
- D. 254, 457, 759, 875, 978

Câu 2 (1 điểm): Số?



Câu 3 (1 điểm): Tính độ dài đường gấp khúc ABCD biết.

- A. 98 km
- B. 99 km
- C. 100 km
- D. 101km





Câu 4 (1 điểm):

a) Tích của 5 và 7 là.

- A. 12 B. 2 C. 35 D. 30

b) Thương của 16 và 2 là.

- A. 18 B. 14 C. 8 D. 10

Câu 5 (1 điểm): Điền dấu (>, <, =) thích hợp vào ô vuông?

1 km ... 410 m + 490 m


650 m + 200 m ... 1 km

1000 m ... 1 km

1 km ... 1000 m - 500 m

Câu 6 (1 điểm): Điền vào chỗ chấm.

Hình dưới đây có :



- hình tam giác
- tứ giác

Câu 7 (1 điểm). Quan sát biểu đồ và trả lời câu hỏi :

Biểu đồ tranh biểu thị số đồ dùng học tập của Na

Bút chì	
Cục tẩy	
Bút mực	

- Bạn Na có ... cái bút chì, ... cục tẩy, ... bút mực

- Đồ dùng bạn Na có nhiều nhất là

Câu 8 (1 điểm) Đặt tính rồi tính:

465 + 228	734 - 648	238 + 36	562 - 32
.....
.....
.....



Câu 9 (1 điểm): Một kho gạo ngày thứ nhất nhập 457 bao, ngày thứ hai nhập ít hơn ngày thứ nhất 39 bao. Hỏi ngày thứ hai kho gạo nhập bao nhiêu bao gạo?

Bài giải:

.....
.....
.....
.....
.....

Câu 10 (1 điểm): Tìm tổng của số liền trước có hai chữ số lớn nhất giống nhau với số lớn nhất có một chữ số?

.....
.....
.....

